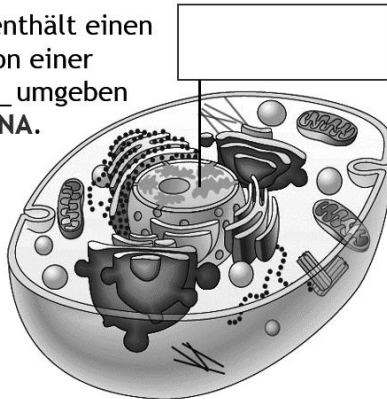




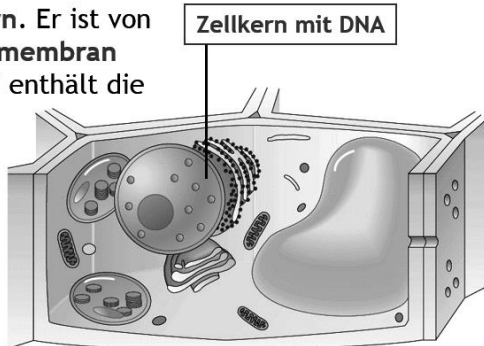
Vergleichen und ergänzen Sie die fehlenden Beschriftungen in der Grafik:

Zellen mit Zellkern:

Die _____ enthält einen **Zellkern**. Er ist von einer _____ umgeben und enthält die **DNA**.

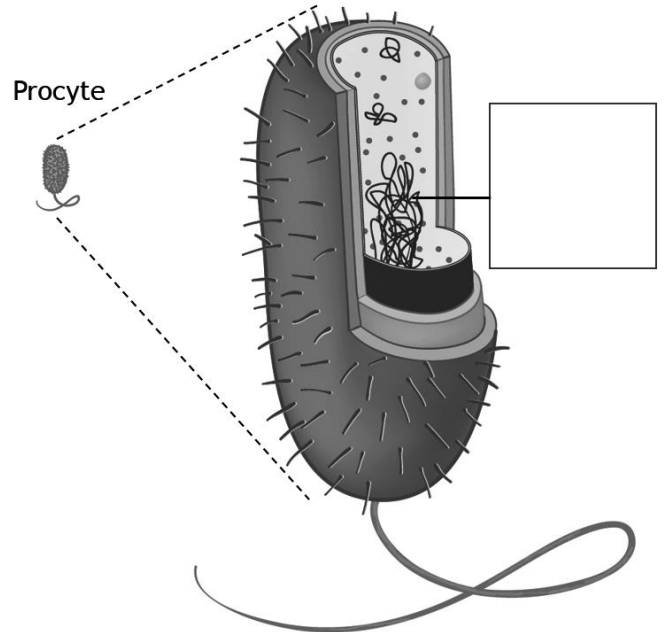


Die _____ enthält einen **Zellkern**. Er ist von einer **Doppelmembran** umgeben und enthält die _____.

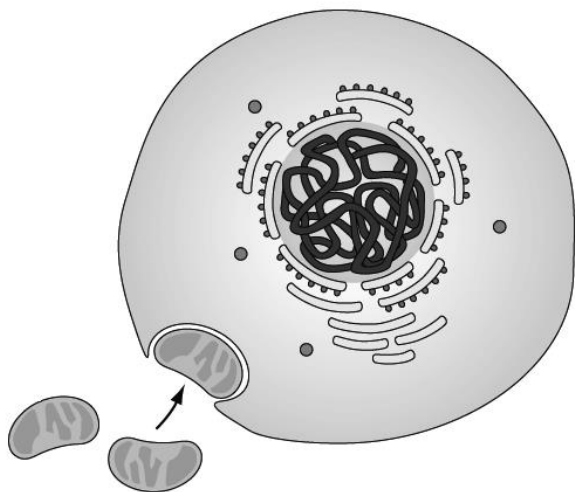


Zellen ohne Zellkern:

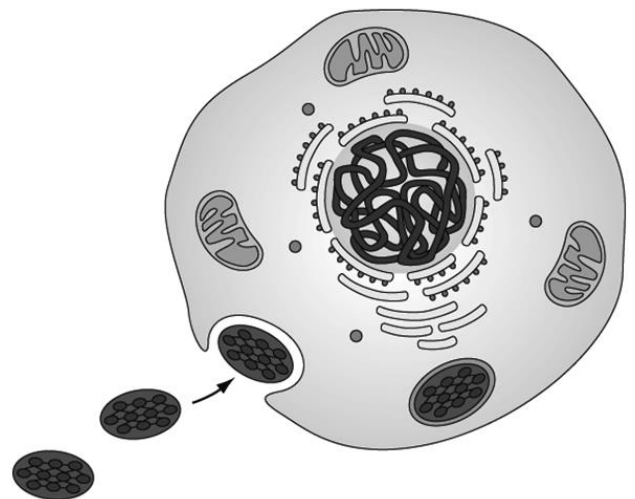
Die Procyte ist viel **kleiner** als eine Tier- oder Pflanzenzelle. Sie weist _____ **Zellkern** auf. Ihre _____ liegt **frei** im Zellkörper.



Beschreiben Sie in eigenen Worten die Endosymbionten-Theorie mit diesen beiden Grafiken:



Ihre Beschreibung:



Ihre Beschreibung: